

**Nombre:** \_\_\_\_\_

En una tienda de deportes hay 543 balones. En otra tienda hay 209 balones menos ¿Cuántos balones hay en la segunda tienda?

**Balones**

Tienda 1

La Operación es

Tienda 2

**Resultado**

Laura tiene 34 globos, David tiene 13 globos y Daniel tiene 48 globos ¿Cuántos globos tienen en total?

**Globos**

Laura

La Operación es

David

Daniel

**Resultado**

Nombre: \_\_\_\_\_

Haz grupos de 10 y completa



Hay

Decenas

Decenas


son

unidades

D

=

U



Hay

Decenas

Decenas

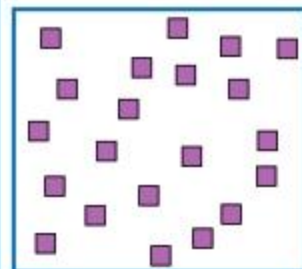
son

unidades

D

=

U



Hay

Decenas

Decenas

son

unidades

D

=

U

$30+5=$

$2 \times 6=$

**Nombre:** \_\_\_\_\_

*Completa la serie*

1 D	2 D	3 D	4 D			7 D
1 0	2 0			50	60	

*Carla tiene 18 euros y ha gastado 5 euros en un cuaderno ¿Cuántos euros le quedan?*

Euros

Tiene		La Operación es	
Gasta			

*Resultado*

*Suma 11*

20	31	42						108
----	----	----	--	--	--	--	--	-----

**Nombre:** \_\_\_\_\_

Mario tiene 3 cintas de colores. Necesita 8 para hacer una pulsera. ¿Cuántas cintas le faltan?

Cintas

Tiene

La Operación es

Necesita

Resultado

Completa

24 →  D y  U

56 →  D y  U

37 →  D y  U

→ 8 D y 2 U

45 →  D y  U

97 →  D y  U

→ 4 D y 8 U

→ 6 D y 1 U

→ 3 D y 1 U

76 →  D y  U

Nombre: \_\_\_\_\_

*Escribe el número anterior y posterior*

$$\square \leftarrow 19 \rightarrow \square$$

$$\square \leftarrow 43 \rightarrow \square$$

$$\square \leftarrow 60 \rightarrow \square$$

$$\square \leftarrow 34 \rightarrow \square$$

$$\square \leftarrow 50 \rightarrow \square$$

$$\square \leftarrow 78 \rightarrow \square$$

*Sumas*

$$\begin{array}{r} 15 \\ + 43 \\ \hline \end{array}$$

$$\begin{array}{r} 63 \\ + 12 \\ \hline \end{array}$$

$$\begin{array}{r} 8 \\ + 42 \\ \hline \end{array}$$

$$\begin{array}{r} 5 \\ + 45 \\ \hline \end{array}$$

$$\square$$

$$\square$$

$$\square$$

$$\square$$

$$\begin{array}{r} 21 \\ + 26 \\ \hline \end{array}$$

$$\begin{array}{r} 60 \\ + 27 \\ \hline \end{array}$$

$$\begin{array}{r} 13 \\ + 6 \\ \hline \end{array}$$

$$\begin{array}{r} 23 \\ + 17 \\ \hline \end{array}$$

$$\square$$

$$\square$$

$$\square$$

$$\square$$

**Nombre:** \_\_\_\_\_

*Completa la serie*

	+2		+3		+2		+4		+2	
1										14

*Escribe el signo mayor > o menor < según corresponda*

45		52		12		10
28		18		46		50
56		64		65		56

*Ordena de menor a mayor*

72	53	37	26	65	57	81	23	31	12
----	----	----	----	----	----	----	----	----	----

*Ordena de mayor a menor*

40	65	51	45	36	17	48	23	13	83
----	----	----	----	----	----	----	----	----	----

Nombre: \_\_\_\_\_

Sumas

$$\begin{array}{r} 32 \\ 41 \\ + 13 \\ \hline \end{array}$$

$$\begin{array}{r} 21 \\ 44 \\ + 32 \\ \hline \end{array}$$

$$\begin{array}{r} 64 \\ 12 \\ + 13 \\ \hline \end{array}$$

$$\begin{array}{r} 42 \\ 14 \\ + 20 \\ \hline \end{array}$$

Eva comió 54 yogures el mes pasado, Luis 23 y Olga 10.  
¿Cuántos yogures comieron entre los tres?

Yogures

Eva

Luis

Olga

La Operación es

Resultado

Nombre: \_\_\_\_\_

*Restas*

56

- 12

74

- 31

69

- 10

85

- 43

98

- 10

65

- 42

45

- 13

54

- 22

*Completa la serie*

x2

+1

-2

-5

x3

5

12



**Nombre:** \_\_\_\_\_*Problemas*

*La noria del parque tiene 68 asientos y han subido 25 niños ¿Cuántos asientos quedan libres?*

**Asientos**

Total

La Operación es

Ocupados

*Resultado*

*A la entrada del colegio había 789 niños y niñas ¿Cuántos faltan por llegar si en el colegio somos, en total, 857 niños y niñas?*

**Niños y niñas**

Hay

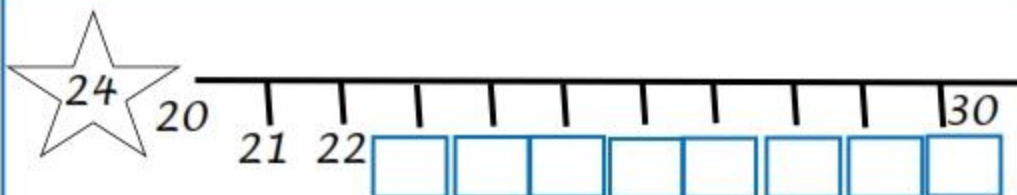
La Operación es

Total

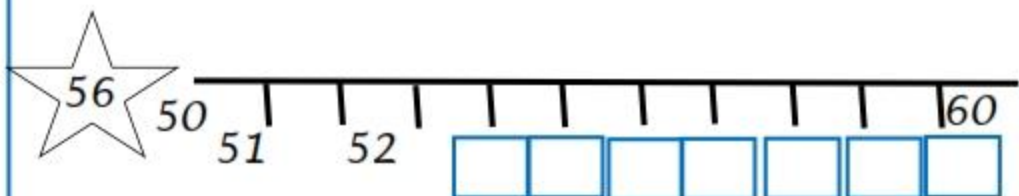
*Resultado*

Nombre: \_\_\_\_\_

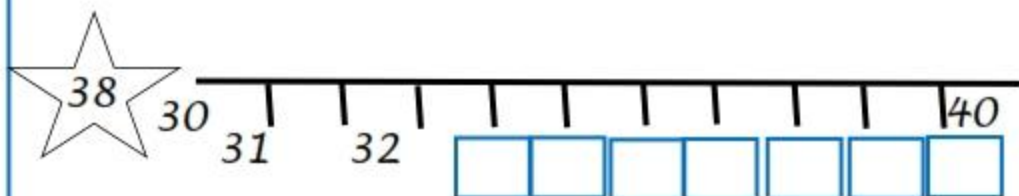
Completa la recta numérica



24 esta entre ----- y -----



56 esta entre ----- y -----



38 esta entre ----- y -----

$12 - 2 =$

$5 \times 4 =$

**Nombre:** \_\_\_\_\_

*Completa como en el ejemplo*

1	Centena	son	100	Unidades
2	Centenas	son		Unidades
3	Centenas	son		Unidades
	Centenas	son	400	Unidades
	Centenas	son	500	Unidades
6	Centenas	son		Unidades

*Completa la serie*

0	10	20					
		100					

$$16 - 6 =$$

$$9 \times 4 =$$

Nombre: \_\_\_\_\_

*Relaciona cada suma con su resta, como en el ejemplo*

$5+6=11 \longrightarrow 11-5=6$

$6+8=$

$11-7=$

$9+2=$

$13-8=$

$7+4=$

$14-6=$

$5+8=$

$11-2=$

*Javier tiene 19 coches rojos y 24 coches verdes ¿Cuántos Coches tiene en total?*

*Coches**Rojos* *La Operación es* *Verdes* *Resultado*

Nombre: \_\_\_\_\_

Completa

2 decenas = \_\_\_\_\_ unidades

\_\_\_\_ D = \_\_\_\_\_ U

5 decenas = \_\_\_\_\_ unidades

\_\_\_\_ D = \_\_\_\_\_ U

8 decenas = \_\_\_\_\_ unidades

\_\_\_\_ D = \_\_\_\_\_ U

\_\_\_\_ decenas = 30 unidades

\_\_\_\_ D = \_\_\_\_\_ U

\_\_\_\_ decenas = 90 unidades

\_\_\_\_ D = \_\_\_\_\_ U

Nacho tiene que hacer 68 ejercicios. Si ya ha hecho 29  
¿Cuántos ejercicios le quedan por hacer?

Ejercicios

Hechos

La Operación es

Quedan

Resultado

Nombre: \_\_\_\_\_

Completa, como en el ejemplo

$$58 = 5 \text{ decenas} + 8 \text{ unidades} = 50 + 8$$

$$65 = \text{-----} \text{ decenas} + \text{-----} \text{ unidades} = \text{---} + \text{---}$$

$$74 = \text{-----} \text{ decenas} + \text{-----} \text{ unidades} = \text{---} + \text{---}$$

$$28 = \text{-----} \text{ decenas} + \text{-----} \text{ unidades} = \text{-----} + \text{---}$$

$$92 = \text{-----} \text{ decenas} + \text{-----} \text{ unidades} = \text{-----} + \text{---}$$

$$30 = \text{-----} \text{ decenas} + \text{-----} \text{ unidades} = \text{---} + \text{-----}$$

$$\text{-----} = 1 \text{ decenas} + 7 \text{ unidades} = \text{---} + \text{---}$$

$$\text{-----} = 4 \text{ decenas} + 1 \text{ unidades} = \text{---} + \text{-----}$$

Calculo

$$10 - 8 =$$

$$10 - 7 =$$

$$10 - 6 =$$

$$10 - 5 =$$

$$100 - 20 =$$

$$100 - 30 =$$

$$100 - 40 =$$

$$100 - 50 =$$

**Nombre:** \_\_\_\_\_*Coloca los números y suma*

$27 + 19 =$

$24 + 5 + 30 =$

$6 + 30 + 43 =$

$42 + 24 + 12 =$

*Multiplica*

$3 \times 4 =$

$7 \times 9 =$

$8 \times 2 =$

$4 \times 5 =$

$5 \times 6 =$

$9 \times 3 =$

Nombre: \_\_\_\_\_

*Suma y escribe como se lee el número*

$300 + 50 + 2 =$

$200 + 60 + 8 =$

$500 + 30 + 5 =$

$600 + 10 + 6 =$

*Escribe el número anterior y posterior*

<input type="text"/>	←	192	→	<input type="text"/>	<input type="text"/>	←	433	→	<input type="text"/>
----------------------	---	-----	---	----------------------	----------------------	---	-----	---	----------------------

<input type="text"/>	←	345	→	<input type="text"/>	<input type="text"/>	←	200	→	<input type="text"/>
----------------------	---	-----	---	----------------------	----------------------	---	-----	---	----------------------

<input type="text"/>	←	865	→	<input type="text"/>	<input type="text"/>	←	430	→	<input type="text"/>
----------------------	---	-----	---	----------------------	----------------------	---	-----	---	----------------------

<input type="text"/>	←	638	→	<input type="text"/>	<input type="text"/>	←	740	→	<input type="text"/>
----------------------	---	-----	---	----------------------	----------------------	---	-----	---	----------------------



**Nombre:** \_\_\_\_\_

Ana compra una camiseta por 45 euros y Diego compra una por 23 euros ¿Cuánto cuesta la camiseta de Diego menos que la de Ana?

Precio		La Operación es	
Ana	<input type="text"/>		
Diego	<input type="text"/>		

Resultado

Escribe los números y relaciónalos

Noventa y cuatro	<input type="text"/>	$2C + 1D + 5U$
Ciento doce	<input type="text"/>	$2C + 2D + 2U$
Ciento veintidós	<input type="text"/>	$0C + 9D + 4U$
Doscientos treinta y seis	<input type="text"/>	$1C + 1D + 2U$
Doscientos quince	<input type="text"/>	$2C + 3D + 6U$

Nombre: \_\_\_\_\_

Noelia tiene 8 años y su madre tiene 28 años más que ella. ¿Cuántos años tiene su madre?

Años

Noelia

La Operación es

Su madre

Resultado

Si tengo 29 canicas amarillas y 46 canicas azules ¿Cuántas canicas tengo en total?

Canicas

azules


La Operación es

amarillas

Resultado

Nombre: \_\_\_\_\_

Haz grupos de 10 y completa



Hay

Decenas

Decenas

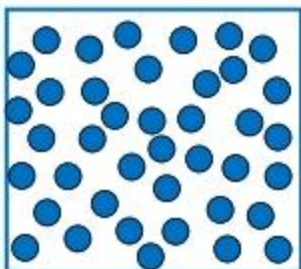
son

unidades

D

=

U



Hay

Decenas

Decenas

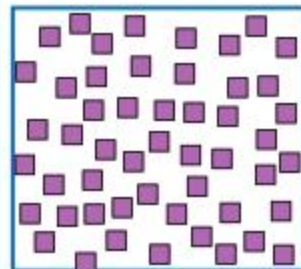
son

unidades

D

=

U



Hay

Decenas

Decenas

son

unidades

D

=

U

$30 + 5 =$

$2 \times 6 =$

**Nombre:** \_\_\_\_\_

*Completa la serie*

4 D	5 D	6 D	7 D			10 D
40	50			80	90	

*Completa*

46 →  D  U

89 →  D y  U

18 →  D y  U

→ 9 D y 7 U

29 →  D y  U

34 →  D y  U

→ 3 D y 0 U

→ 7 D y 0 U

*Suma 15*

10	25	40	<input type="text"/>	<input type="text"/>	<input type="text"/>	<input type="text"/>	<input type="text"/>	130
----	----	----	----------------------	----------------------	----------------------	----------------------	----------------------	-----

**Nombre:** \_\_\_\_\_*Sumas*

62

23

+ 10

51

24

+ 12

84

32

+ 20

29

68

+ 19

*Hay dos carteros. Jorge el cartero ha repartido 136  
Cartas y Marta ha repartido 129 cartas mas que Jorge.  
¿Cuántas cartas ha repartido Marta?*

*Cartas**Jorge**Marta**La Operación es**Resultado*

Nombre: \_\_\_\_\_

*Completa la serie*

	+3		-2		+3		-2		+3	
1										6

*Escribe el signo mayor > o menor < según corresponda*

234		245	122		130
321		319	470		467
568		640	657		567

*Ordena de menor a mayor*

721	737	726	765	781	723	731
-----	-----	-----	-----	-----	-----	-----

*Ordena de mayor a menor*

401	493	433	456	412	459	434
-----	-----	-----	-----	-----	-----	-----

Nombre: \_\_\_\_\_

*Restas*

63

- 23

49

- 12

86

- 42

90

- 10

65

- 43

59

- 42

36

- 20

84

- 22

*Completa la serie*

x2

+1

-2

-5

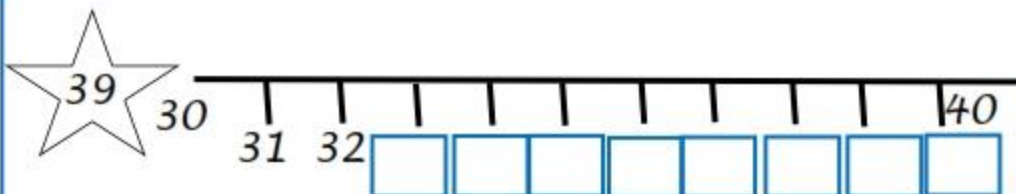
x3

6

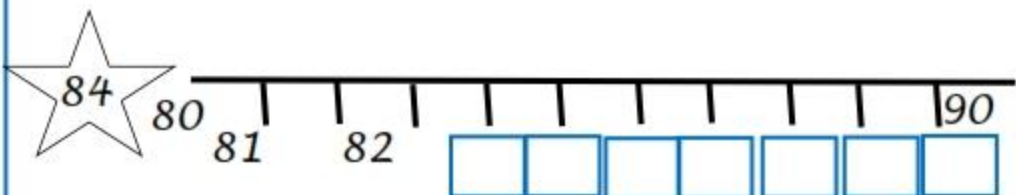
18

Nombre: \_\_\_\_\_

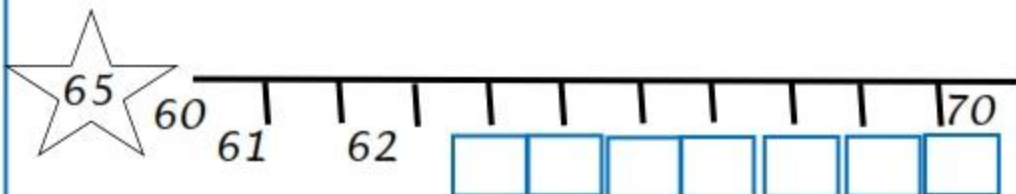
Completa la recta numérica



39 esta entre ----- y -----



84 esta entre ----- y -----



65 esta entre ----- y -----

$$20 - 9 =$$

$$6 \times 7 =$$



Nombre: \_\_\_\_\_

Completa como en el ejemplo

7	Centena	son	700	Unidades
6	Centenas	son		Unidades
	Centenas	son	300	Unidades
	Centenas	son	900	Unidades
	Centenas	son	200	Unidades
5	Centenas	son		Unidades

Álvaro ha escrito 45 palabras más que Lucía. Si Lucía ha escrito 236 palabras ¿Cuántas palabras ha escrito Álvaro?

Palabras

Lucía

Álvaro

La Operación es

Resultado

Nombre: \_\_\_\_\_

*Relaciona cada suma con su resta, como en el ejemplo*

$4+9= 13 \longrightarrow 13-4= 9$

$10+ 6=$

$14-9=$

$8+3 =$

$16-6=$

$12+ 4=$

$11-8=$

$9+5=$

$16-4=$

*A Paula le han regalado 145 cromos, ha Pedro le han regalado 59 cromos más que a Paula ¿Cuántos cromos le han regalado a Pedro?*

*cromos**Paula**La Operación es**Pedro**Resultado*

**Nombre:** \_\_\_\_\_*Completa*

6 decenas = \_\_\_\_\_ unidades

\_\_\_\_\_ D = \_\_\_\_\_ U

\_\_\_\_ decenas = 40 unidades

\_\_\_\_\_ D = \_\_\_\_\_ U

\_\_\_\_ decenas = \_\_\_\_\_ unidades

7 D = \_\_\_\_\_ U

\_\_\_\_\_ decenas = 20 unidades

\_\_\_\_\_ D = \_\_\_\_\_ U

\_\_\_\_\_ decenas = \_\_\_\_\_ unidades

\_\_\_\_\_ D = 80 U

*Multiplica*

6 X 4 =

7 X 3 =

8 X 9 =

4 X 7 =

5 X 8 =

9 X 5 =

9 X 4 =

8 X 3 =

8 X 8 =

4 X 2 =

5 X 3 =

9 X 2 =

**Nombre:** \_\_\_\_\_*Completa, como en el ejemplo*

$$63 = 6 \text{ decenas} + 3 \text{ unidades} = 60 + 3$$

$$29 = \text{-----} \text{ decenas} + \text{-----} \text{ unidades} = \text{----} + \text{----}$$

$$92 = \text{-----} \text{ decenas} + \text{-----} \text{ unidades} = \text{---} + \text{---}$$

$$\text{-----} = 1 \text{ decenas} + 7 \text{ unidades} = \text{-----} + \text{-----}$$

$$76 = \text{-----} \text{ decenas} + \text{-----} \text{ unidades} = \text{-----} + \text{----}$$

$$\text{-----} = 8 \text{ decenas} + 6 \text{ unidades} = \text{----} + \text{-----}$$

$$\text{-----} = 4 \text{ decenas} + 5 \text{ unidades} = \text{----} + \text{----}$$

$$\text{-----} = \text{-----} \text{ decenas} + \text{-----} \text{ unidades} = 30 + 5$$

*Suma y escribe como se lee el número*

$$100 + 20 + 6 =$$

$$500 + 50 + 9 =$$

$$300 + 40 + 3 =$$

Nombre: \_\_\_\_\_

*Escribe el número anterior y posterior*

<input type="text"/>	←	567	→	<input type="text"/>	<input type="text"/>	←	492	→	<input type="text"/>
<input type="text"/>	←	936	→	<input type="text"/>	<input type="text"/>	←	377	→	<input type="text"/>
<input type="text"/>	←	201	→	<input type="text"/>	<input type="text"/>	←	643	→	<input type="text"/>
<input type="text"/>	←	503	→	<input type="text"/>	<input type="text"/>	←	717	→	<input type="text"/>

*Escribe los números y relaciónalos*

<i>Ciento veinticuatro</i>	<input type="text"/>	$2C + 0D + 9U$
<i>Trescientos diez</i>	<input type="text"/>	$1C + 4D + 0U$
<i>Ciento cuarenta</i>	<input type="text"/>	$2C + 1D + 6U$
<i>Doscientos dieciséis</i>	<input type="text"/>	$1C + 2D + 4U$
<i>Doscientos nueve</i>	<input type="text"/>	$3C + 1D + 0U$

**Nombre:** \_\_\_\_\_*Coloca los números y haz las operaciones*

$57 + 9 + 34 =$

$68 - 34 =$

$56 + 10 + 43 =$

$87 - 27 =$

*Calculo*

$10 - 4 =$

$10 - 3 =$

$10 - 2 =$

$10 - 1 =$

$100 - 60 =$

$100 - 70 =$

$100 - 80 =$

$100 - 90 =$