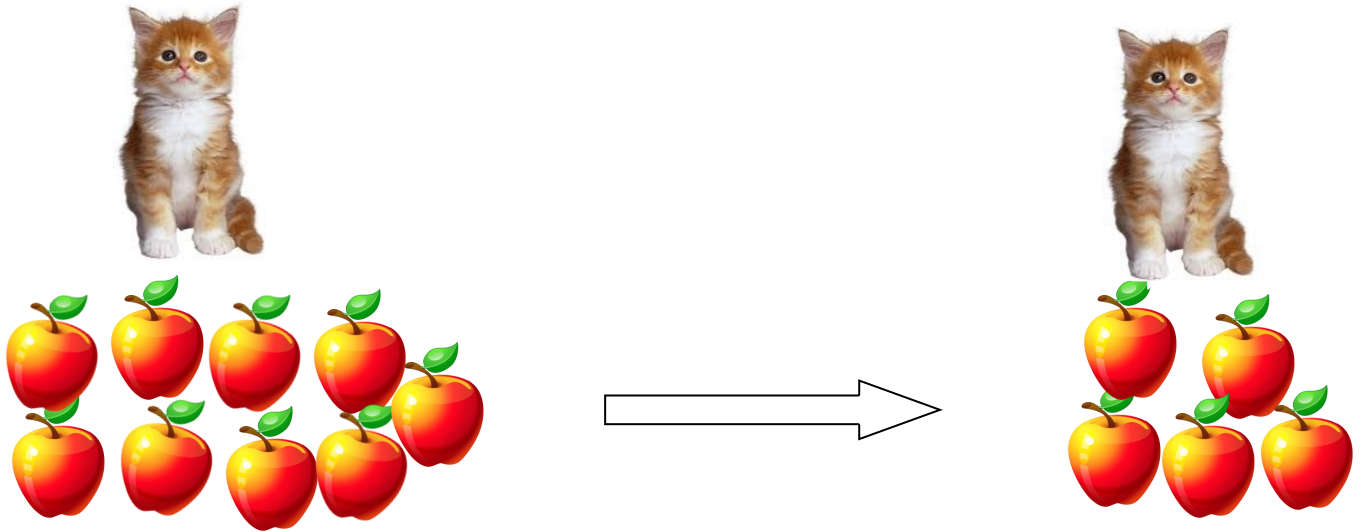


Matemáticas. 1º Primaria Repaso Segundo Trimestre.

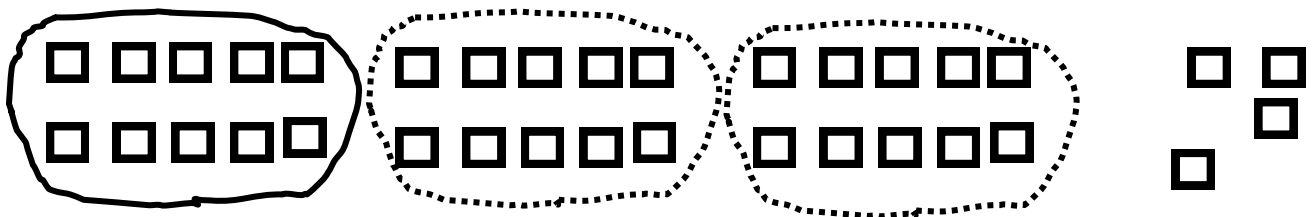
Nombre: _____

¿Cuántas manzanas se ha comido el gato?




$$\boxed{} - \boxed{} = \boxed{}$$

Rodea las decenas y completa



decenas

unidades


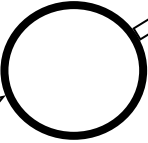

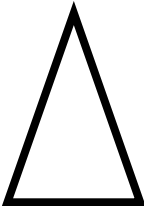


decenas

unidades

Nombre: _____

Relaciona con flechas

triángulo		Sin lados rectos
cuadrado		cuatro lados rectos
círculo		tres lados rectos
rectángulo		cuatro lados rectos

Escribe los números

veintiséte		Noventa y uno	
Cincuenta y cuatro		cuarenta y nueve	
Treinta y seis		dieciocho	
Ochenta y dos		Sesenta y cinco	



Matemáticas. 1º Primaria Repaso Segundo Trimestre.

Nombre: _____

Observa lo que está a la derecha y a la izquierda del niño y completa la tabla




Izquierda	Derecha

Colorea

2 decenas y 1 unidad







1 decena y 8 unidades




Nombre: _____






Escoge los números correctos para completar las sumas




+




=



+



=



$6+8=$

$9+4=$

$10+5=$

$12+8=$

$3+5=$

$4+6=$

Nombre: _____

Completa la serie

	-2		-3		-2		-4		-2
14									1

Escribe el signo mayor > o menor < según corresponda

7		9		8		10
12		5		21		15
5		3		13		20

Sumas

12 + 5	6 + 10	8 + 4	15 + 5

$5 - 2 =$

$8 - 1 =$

Nombre: _____*Problemas*

*Pablo tiene 13 canicas y Laura tiene 22 canicas.
¿Cuántas canicas tienen entre los dos?*

Canicas		La Operación es	
Pablo	<input type="text"/>		
Laura	<input type="text"/>		

Resultado

*En una casa hay 14 perros grandes y 5 perros pequeños.
¿Cuántos perros grandes hay más que pequeños?*

Perros		La Operación es	
Grandes	<input type="text"/>		
Pequeños	<input type="text"/>		

Resultado

Nombre: _____

Restas

$$\begin{array}{r} 10 \\ - 9 \\ \hline \end{array}$$

$$\begin{array}{r} 15 \\ - 6 \\ \hline \end{array}$$

$$\begin{array}{r} 18 \\ - 2 \\ \hline \end{array}$$

$$\begin{array}{r} 26 \\ - 3 \\ \hline \end{array}$$

$$\begin{array}{r} 12 \\ - 5 \\ \hline \end{array}$$

$$\begin{array}{r} 32 \\ - 4 \\ \hline \end{array}$$

$$\begin{array}{r} 54 \\ - 12 \\ \hline \end{array}$$

$$\begin{array}{r} 46 \\ - 25 \\ \hline \end{array}$$

Completa la serie

-2

+1

-2

+1

-2

14

10

Matemáticas. 1º Primaria Repaso Segundo Trimestre.

Nombre: _____

Problemas

María tiene 22 pegatinas y le da 9 pegatinas a su prima ¿Cuántas pegatinas le quedan?

Pegatinas

María

La Operación es

Da

Resultado

En una caja hay 34 galletas, si nos comemos 16 galletas ¿Cuántas galletas quedan?

Galletas

Hay

La Operación es

Comemos

Resultado

Nombre: _____

Escribe el número anterior y posterior

$$\square \leftarrow 39 \rightarrow \square$$

$$\square \leftarrow 18 \rightarrow \square$$

$$\square \leftarrow 52 \rightarrow \square$$

$$\square \leftarrow 44 \rightarrow \square$$

$$\square \leftarrow 63 \rightarrow \square$$

$$\square \leftarrow 61 \rightarrow \square$$

Completa

$$15 = \quad + 5$$

$$24 = \quad + 4$$

$$63 = 60 + \quad$$

$$39 = 30 + \quad$$

$$91 = 90 + \quad$$

$$16 = \quad + 6$$

$$48 = \quad + 8$$

$$56 = 50 + \quad$$

$$87 = \quad + 7$$

$$73 = \quad + 3$$

$$65 = \quad + 5$$

$$84 = 80 + \quad$$

Nombre: _____

Colorea en rojo los números mayores de 20 y en azul los números menores de 20.

12	24	30	5
3	15	28	18
11	10	25	9
17	26	4	13
18	22	3	29

Colorea en verde los números pares y en amarillo los números impares

42	14	31	5
30	15	18	8
61	20	25	72
87	66	4	13
10	32	3	29

$6 - 6 =$

$9 + 1 =$

Matemáticas. 1º Primaria Repaso Segundo Trimestre.

Nombre: _____

¿Cuántas piruletas se ha comido el gato?

[] - [] = []

Rodea las decenas y completa

decenas

unidades

decenas

unidades

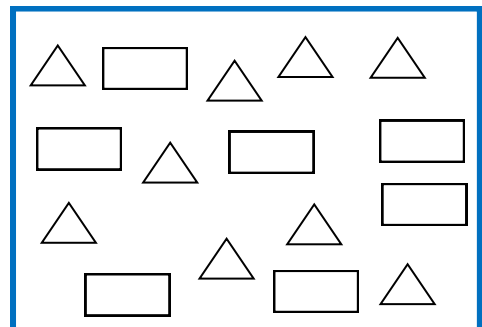
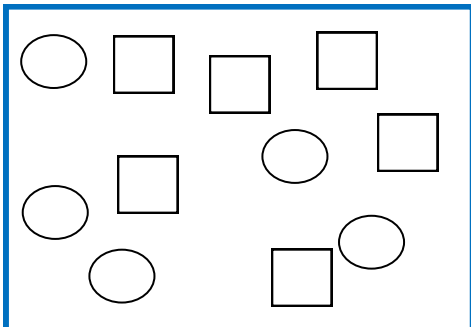
Matemáticas. 1º Primaria Repaso Segundo Trimestre.

Nombre: _____

Colorea

Más que

Menos que



Observa lo que está a la derecha y a la izquierda de la niña y completa la tabla



Izquierda	Derecha

Matemáticas. 1º Primaria Repaso Segundo Trimestre.

Nombre: _____

Escribe el signo mayor $>$ o menor $<$ según corresponda


27	<input type="text"/>	19	14	<input type="text"/>	10
17	<input type="text"/>	15	22	<input type="text"/>	19
32	<input type="text"/>	23	33	<input type="text"/>	25

Colorea

3 decenas y 5 unidades







6 decenas y 3 unidades




Nombre: _____






Escoge los números correctos para completar las sumas




+




=



+



=



$16 + 8 =$

$19 + 4 =$

$18 + 5 =$

$12 + 28 =$

$32 + 5 =$

$4 + 16 =$

Matemáticas. 1º Primaria Repaso Segundo Trimestre.

Nombre: _____

Rodea en cada caso, el número mayor en rojo y el menor en verde

32 30 29 26 33

15 12 16 13 14

En mi clase hay 23 lápices verdes y 14 lápices rojos
¿Cuántos lápices hay en total?

Lápices

Verdes

La Operación es

Rojos

Resultado

Ordena de menor a mayor

4 16 12 18 1 6 5 2 23 15 26

Matemáticas. 1º Primaria Repaso Segundo Trimestre.

Nombre: _____

Tengo que hacer 31 ejercicios si ya he hecho 18
¿Cuántos ejercicios me quedan?

Ejercicios

Total

La Operación es

Hechos

Resultado

Restas

36

- 27

53

- 25

38

- 29

62

- 39

$10 - 2 =$

$25 + 3 =$

Matemáticas. 1º Primaria Repaso Segundo Trimestre.

Nombre: _____

Amelia tiene 23 cromos, Javí tiene 32 cromos y Nacho tiene 45 cromos

¿Cuántos cromos tienen entre los tres?

Cromos			
Amelia	<input type="text"/>	La Operación es	<input type="text"/>
Javí	<input type="text"/>		
Nacho	<input type="text"/>		

Resultado

Completa como en el ejemplo

24	son	2	Decenas	y	4	Unidades
56	son	<input type="text"/>	Decenas	y	<input type="text"/>	Unidades
31	son	<input type="text"/>	Decenas	y	<input type="text"/>	Unidades
<input type="text"/>	son	5	Decenas	y	6	Unidades

Matemáticas. 1º Primaria Repaso Segundo Trimestre.

Nombre: _____

Alberto tiene 28 cromos y le regalan otros 12 cromos.
Pero como tiene 9 repetidos, le da esos 9 a su hermana
¿Cuántas cromos tiene en total?

Cromos		La Operación es	
Tiene	<input type="text"/>		
Le regalan	<input type="text"/>		
Da a su hermana	<input type="text"/>		

Resultado

Completa como en el ejemplo

12	son	1	Decenas	y	2	Unidades
25	son	<input type="text"/>	Decenas	y	<input type="text"/>	Unidades
<input type="text"/>	son	4	Decenas	y	0	Unidades
<input type="text"/>	son	8	Decenas	y	2	Unidades

Matemáticas. 1º Primaria Repaso Segundo Trimestre.

Nombre: _____

Paula tiene 56 cartulinas azules y amarillas. Si 29 son azules ¿Cuántas cartulinas amarillas tiene?

Cartulinas

Total

La Operación es

Azules

Resultado

Colorea en rojo los números pares y en azul los impares

65	93	29	36
13	58	28	82
94	36	12	19
16	26	34	43
24	12	89	23

Matemáticas. 1º Primaria Repaso Segundo Trimestre.

Nombre: _____

Ana tiene 23 caramelos y David tiene 15 caramelos. Se han comido 18 caramelos

¿Cuántos caramelos tienen entre los dos?

Caramelos		La Operación es	
Ana	<input type="text"/>		
David	<input type="text"/>		
Se comen	<input type="text"/>		

Resultado

Sumas y Restas

$$\begin{array}{r} 23 \\ - 15 \\ \hline \end{array}$$

$$\begin{array}{r} 35 \\ + 49 \\ \hline \end{array}$$

$$\begin{array}{r} 25 \\ - 18 \\ \hline \end{array}$$

$$\begin{array}{r} 86 \\ + 33 \\ \hline \end{array}$$

$12 - 3 =$

$23 + 5 =$