

Nombre: \_\_\_\_\_

Ana tiene 13 caramelos y David tiene 15 caramelos.  
¿Cuántos caramelos tienen entre los dos?

Caramelos

Ana

La Operación es

David

Resultado

Sumas y Restas

18

- 5

15

+ 23

25

- 1

46

+ 23

$12 - 3 =$

$23 + 5 =$

Nombre: \_\_\_\_\_

*Cuenta y rodea el número que corresponda*

1-2-3-4



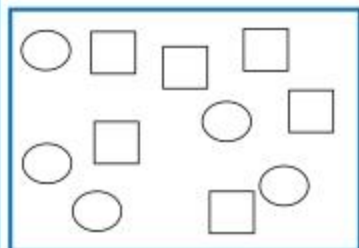
1-2-3-4



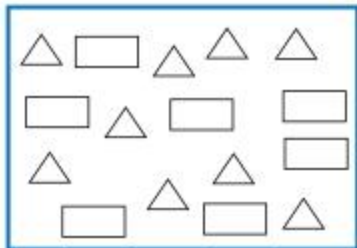
1-2-3-4

*Colorea*

Más ○ que □



Menos △ que □

*Suma*


$$3+2=$$



$$4+1=$$

Nombre: \_\_\_\_\_

*Cuenta y calcula*



$$\boxed{3} + \boxed{\phantom{0}} = \boxed{\phantom{0}}$$



$$\boxed{4} + \boxed{\phantom{0}} = \boxed{\phantom{0}}$$



$$\boxed{6} - \boxed{\phantom{0}} = \boxed{\phantom{0}}$$



$$\boxed{5} - \boxed{\phantom{0}} = \boxed{\phantom{0}}$$

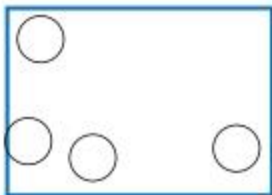
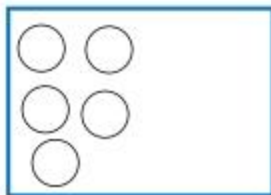
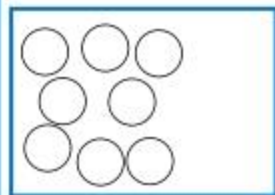
*Completa la serie*

	<b>+2</b>		<b>+1</b>		<b>+2</b>		<b>+1</b>	
<b>1</b>								<b>7</b>



**Nombre:** \_\_\_\_\_

*Completa hasta 10*



*Tacha con rojo lo que esta más cerca de l niño y rodea con verde lo que esta más lejos*



*Colorea con rojo lo que esta dentro y con verde lo que Esta fuera*



Nombre: \_\_\_\_\_

Rodea en cada caso, el número mayor en rojo y el menor en verde

3 7 1 10 3

8 6 9 4 2

Escribe el número anterior y posterior

□ ← 7 → □

□ ← 8 → □

□ ← 1 → □

□ ← 3 → □

□ ← 5 → □

□ ← 12 → □

Ordena de mayor a menor

7 11 20 5 1 9 3 6 13 18 26

$3+5=$

$4+6=$

Nombre: \_\_\_\_\_

Completa la serie

	+2		+3		+2		+4		+2	
1										14

Escribe el signo mayor  $>$  o menor  $<$  según corresponda

7		9		8		10
12		5		21		15
5		3		13		20

Sumas

12 + 5	6 + 10	8 + 4	15 + 5

$5 - 2 =$

$8 - 1 =$

**Nombre:** \_\_\_\_\_*Problemas*

*Pablo tiene 3 canicas y Laura tiene 8 canicas.  
¿Cuántas canicas tienen entre los dos?*

**Canicas**

Pablo

La Operación es

Laura

*Resultado*

*En una casa hay 3 perros grandes y 2 perros pequeños.  
¿Cuántos perros hay en total?*

**Perros**

Grandes

La Operación es

Pequeños

*Resultado*

Nombre: \_\_\_\_\_

*Restas*

$$\begin{array}{r} 10 \\ - 1 \\ \hline \end{array}$$

$$\begin{array}{r} 5 \\ - 0 \\ \hline \end{array}$$

$$\begin{array}{r} 8 \\ - 2 \\ \hline \end{array}$$

$$\begin{array}{r} 6 \\ - 3 \\ \hline \end{array}$$

$$\begin{array}{r} 12 \\ - 0 \\ \hline \end{array}$$

$$\begin{array}{r} 8 \\ - 4 \\ \hline \end{array}$$

$$\begin{array}{r} 15 \\ - 1 \\ \hline \end{array}$$

$$\begin{array}{r} 4 \\ - 2 \\ \hline \end{array}$$

*Completa la serie*



**Nombre:** \_\_\_\_\_*Problemas*

*María tiene 8 pegatinas y le da 2 pegatinas a su prima  
¿Cuántas pegatinas le quedan?*

*Pegatinas**María**La Operación es**Da**Resultado*

*En una caja hay 10 galletas, si nos comemos 3 galletas  
¿Cuántas galletas quedan?*

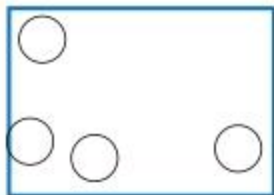
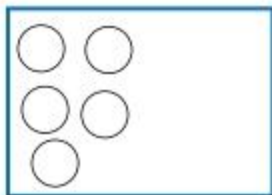
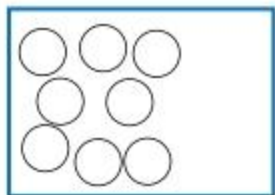
*Galletas**Hay**La Operación es**Comemos**Resultado*

Nombre: \_\_\_\_\_

Completa como en el ejemplo

1	Decena	son	10	Unidades
2	Decenas	son		Unidades
3	Decenas	son		Unidades
	Decena	son	50	Unidades
	Decena	son	60	Unidades
4	Decenas	son		Unidades

Completa hasta 12



$$6 - 2 =$$

$$8 + 3 =$$

Nombre: \_\_\_\_\_

Colorea en rojo los números mayores de 20 y en azul los números menores de 20.

12	24	30	5
3	15	28	18
11	10	25	9
17	26	4	13
18	22	3	29

Sumas

$$\begin{array}{r} 18 \\ + 3 \\ \hline \end{array}$$

$$\begin{array}{r} 5 \\ + 11 \\ \hline \end{array}$$

$$\begin{array}{r} 9 \\ + 2 \\ \hline \end{array}$$

$$\begin{array}{r} 13 \\ + 3 \\ \hline \end{array}$$

$$6 - 6 =$$

$$9 + 1 =$$

**Nombre:** \_\_\_\_\_

*Cuenta y rodea el número que corresponda*



1-2-3-4-5

1-2-3-4-5

1-2-3-4-5

*Escribe el número anterior y posterior*

← 9 →

← 18 →

← 15 →

← 14 →

← 6 →

← 21 →

*Ordena de mayor a menor*

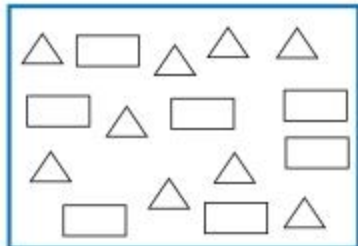
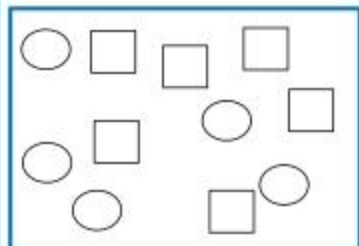
9 23 17 16 6 5 1 8 13 11 10

Nombre: \_\_\_\_\_

Colorea

Más  que

Menos  que



Tacha con rojo lo que esta más cerca de la niña y rodea con verde lo que esta más lejos



$$8 - 6 =$$

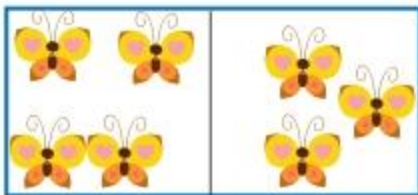
$$11 + 2 =$$

Nombre: \_\_\_\_\_

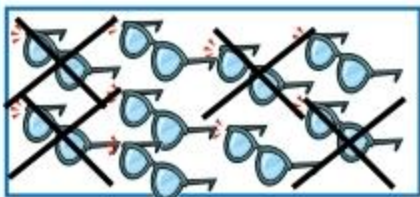
Cuenta y calcula



$$5 + \square = \square$$



$$4 + \square = \square$$

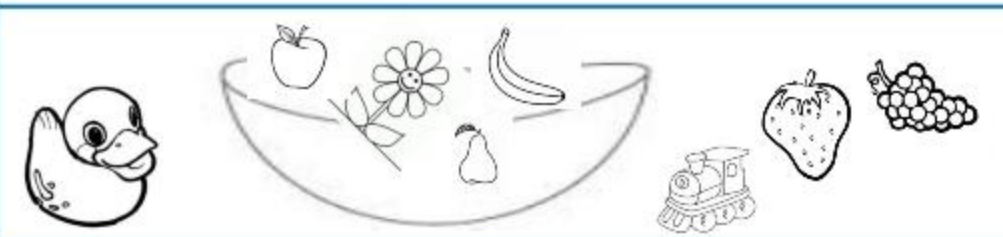


$$9 - \square = \square$$



$$7 - \square = \square$$

Colorea con rojo lo que esta dentro y con verde lo que Esta fuera



$$10 - 6 =$$

$$15 + 5 =$$

Nombre: \_\_\_\_\_

*Escribe el signo mayor > o menor < según corresponda*

27

19

14

10

17

15

22

19

32

23

33

25

*Sumas*

23

+ 15

16

+ 10

18

+ 11

20

+ 5

*Completa la serie*

-2

+1

-2

+1

-2

10

6

Nombre: \_\_\_\_\_

Rodea en cada caso, el número mayor en rojo y el menor en verde

32 30 29 26 33

15 12 16 13 14

En mi clase hay 13 lápices verdes y 10 lápices rojos  
¿Cuántos lápices hay en total?

Lápices

Verdes

La Operación es

Rojos

Resultado

Ordena de menor a mayor

4 16 12 18 1 6 5 2 23 15 26



Nombre: \_\_\_\_\_

Tengo que hacer 23 ejercicios si ya he hecho 12  
¿Cuántos ejercicios me quedan?

Ejercicios

Total

La Operación es

Hechos

Resultado

Restas

16

- 1

15

- 0

18

- 2

26

- 3

$10 - 2 =$

$25 + 3 =$

Nombre: \_\_\_\_\_

Completa como en el ejemplo

10	Unidades	son	1	Decena
20	Unidades	son		Decenas
30	Unidades	son		Decenas
40	Unidades	son		Decenas
	Unidades	son	5	Decenas
	Unidades	son	8	Decenas

Completa como en el ejemplo

24	son	2	Decenas	y	4	Unidades
56	son		Decenas	y		Unidades
31	son		Decenas	y		Unidades
	son	5	Decenas	y	6	Unidades

Nombre: \_\_\_\_\_

Alberto tiene 28 cromos y le regalan otros 12 cromos  
¿Cuántos cromos tiene en total?

Cromos

Tiene

La Operación es

Le regalan

Resultado

Completa como en el ejemplo

12

son

1

Decenas

y

2

Unidades

25

son

Decenas

y

Unidades

son

4

Decenas

y

0

Unidades

son

8

Decenas

y

2

Unidades

**Nombre:** \_\_\_\_\_

Paula tiene 36 cartulinas azules y amarillas. Si 12 son azules ¿Cuántas cartulinas amarillas tiene?

Cartulinas
------------

Total
-------

La Operación es
-----------------

Azules
--------

**Resultado**

Colorea en rojo los números mayores de 30 y en azul los números menores de 30.

25	35	29	36
13	15	28	18
21	31	10	19
16	26	34	43
24	22	34	23