

**Matemáticas. 1º Primaria Repaso Tercer Trimestre.****Nombre:** \_\_\_\_\_*Escribe los números ordinales*

1º

2º

3º

4º

5º

6º

7º

8º

9º

*Sumas y Restas*

23

- 15

35

+ 49

25

- 18

86

+ 33

$12 - 3 =$

$23 + 5 =$

**Matemáticas. 1º Primaria Repaso Tercer Trimestre.**

**Nombre:** \_\_\_\_\_


*Rodea las decenas y completa*



decenas       unidades



decenas       unidades



decenas       unidades

**Nombre:** \_\_\_\_\_*Escribe los números*

veintisiete

Noventa y uno

Cincuenta y cuatro

Cuarenta y nueve

Treinta y seis

dieciocho

Ochenta y dos

Sesenta y cinco

*Completa* ⇒ 5 D 3 U ⇒ 38 ⇒  D  U ⇒  ⇒  D  U ⇒ *Cuarenta y nueve* ⇒ 8 D 4 U ⇒ 

# Matemáticas. 1º Primaria Repaso Tercer Trimestre.

Nombre: \_\_\_\_\_

Observa lo que está a la derecha y a la izquierda del niño y completa la tabla




Izquierda	Derecha

Colorea

2 decenas y 1 unidad



1 decena y 8 unidades



# Matemáticas. 1º Primaria Repaso Tercer Trimestre.

Nombre: \_\_\_\_\_

Escoge los números correctos para completar las sumas



+



=



+



=



$6+8=$

$9+4=$

$10+5=$

$12+8=$

$3+5=$

$4+6=$

Nombre: \_\_\_\_\_

Completa la serie

	-2		-3		-2		-4		-2
14									1

Escribe el signo mayor &gt; o menor &lt; según corresponda

7		9		8		10
12		5		21		15
5		3		13		20

Sumas

$\begin{array}{r} 12 \\ + 45 \\ \hline \end{array}$	$\begin{array}{r} 72 \\ + 13 \\ \hline \end{array}$	$\begin{array}{r} 28 \\ + 40 \\ \hline \end{array}$	$\begin{array}{r} 15 \\ + 35 \\ \hline \end{array}$

$$5 - 2 =$$

$$8 - 1 =$$

**Nombre:** \_\_\_\_\_*Problemas*

Margarita ha cazado 15 ranas y las ha metido en un bote, pero al llegar a su casa solo encuentra en el interior del bote 4 ranas. ¿Cuántas se le han escapado?

Ranas

Caza

La Operación es

En casa

*Resultado*

Almudena tiene 15 libros de cuentos, 2 libros de terror y 5 de aventuras. ¿Cuántos libros tiene en total?

Libros

Cuentos

La Operación es

Terror

Aventura

*Resultado*

**Matemáticas. 1º Primaria Repaso Tercer Trimestre.****Nombre:** \_\_\_\_\_*Restas*

$$\begin{array}{r} 10 \\ - 9 \\ \hline \end{array}$$

$$\begin{array}{r} 25 \\ - 6 \\ \hline \end{array}$$

$$\begin{array}{r} 38 \\ - 12 \\ \hline \end{array}$$

$$\begin{array}{r} 26 \\ - 13 \\ \hline \end{array}$$

$$\begin{array}{r} 12 \\ - 8 \\ \hline \end{array}$$

$$\begin{array}{r} 32 \\ - 24 \\ \hline \end{array}$$

$$\begin{array}{r} 54 \\ - 32 \\ \hline \end{array}$$

$$\begin{array}{r} 46 \\ - 25 \\ \hline \end{array}$$

*Completa la serie*



**Matemáticas. 1º Primaria Repaso Tercer Trimestre.**

**Nombre:** \_\_\_\_\_

*Problemas*

*Había 4 bandejas, con 10 vasos cada una.*

*Manolo ha traído 2 bandejas más.*

*¿Cuántas bandejas hay ahora?*

*¿Cuántos vasos hay ahora?*

*Resultado*

*Inma tenía 6 collares, con 10 perlas cada uno.*

*Ha vendido 3 collares.*

*¿Cuántos collares le quedan?*

*¿Cuántas perlas quedan en total?*

*Resultado*

**Matemáticas. 1º Primaria Repaso Tercer Trimestre.****Nombre:** \_\_\_\_\_*Escribe el número anterior y posterior*

$\square \leftarrow 39 \rightarrow \square$

$\square \leftarrow 88 \rightarrow \square$

$\square \leftarrow 52 \rightarrow \square$

$\square \leftarrow 64 \rightarrow \square$

$\square \leftarrow 63 \rightarrow \square$

$\square \leftarrow 50 \rightarrow \square$

*Completa*

$15 = \square + 5$

$24 = \square + 4$

$63 = 60 + \square$

$39 = 30 + \square$

$91 = 90 + \square$

$16 = \square + 6$

$48 = \square + 8$

$56 = 50 + \square$

$87 = \square + 7$

$73 = \square + 3$

$65 = \square + 5$

$84 = 80 + \square$

**Matemáticas. 1º Primaria Repaso Tercer Trimestre.****Nombre:** \_\_\_\_\_

*Colorea en rojo los números mayores de 50 y en azul los números menores de 50.*

12	65	24	30	86	5
3	34	15	70	39	18
11	9	60	25	20	59
47	21	56	4	18	53
98	49	62	16	95	29

*Colorea en verde los números pares y en amarillo los números impares*

42	98	94	14	31	5
30	36	2	15	18	8
61	27	19	20	25	72
87	29	69	66	4	13
10	48	55	32	3	29

$6 - 6 =$

$9 + 1 =$

**Matemáticas. 1º Primaria Repaso Tercer Trimestre.**

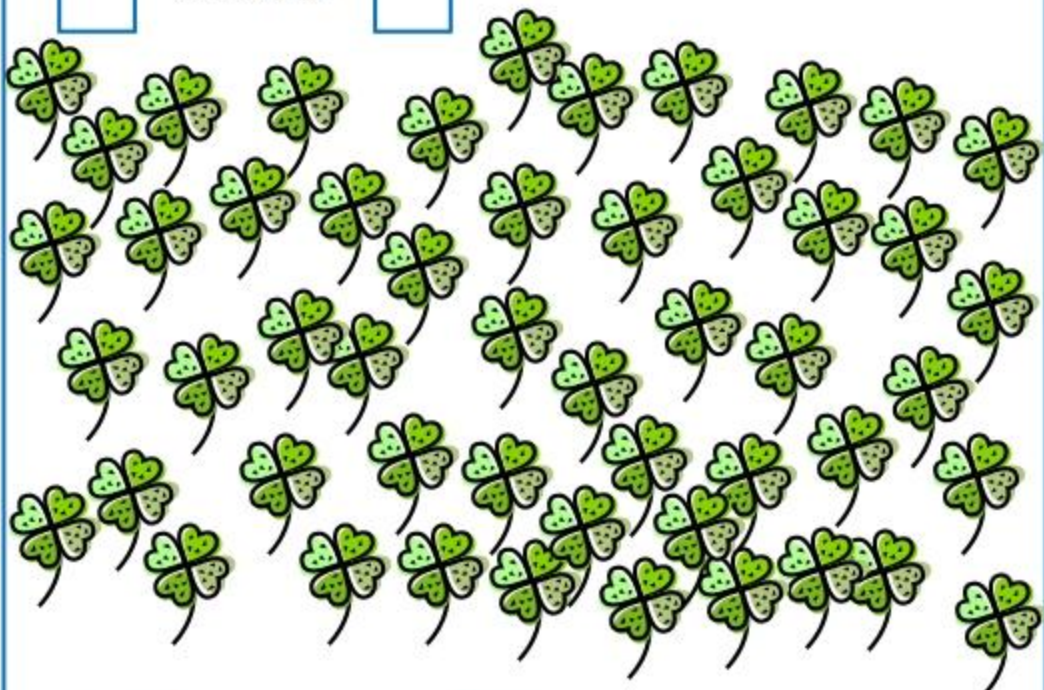
**Nombre:** \_\_\_\_\_

*Rodea las decenas y completa*



*decenas*

*unidades*



*decenas*

*unidades*

## Matemáticas. 1º Primaria Repaso Tercer Trimestre.

Nombre: \_\_\_\_\_

Ana necesita 8 cromos para acabar su colección. Tiene ya 5. ¿Cuántos cromos le faltan?

Observa lo que está a la derecha y a la izquierda de la niña y completa la tabla



Izquierda	Derecha

**Matemáticas. 1º Primaria Repaso Tercer Trimestre.**

**Nombre:** \_\_\_\_\_

*Problemas*

*Luis tenía 4 manzanas.  
Gastó 2 para hacer un pastel.  
¿Cuántas manzanas le sobran?*

*Resultado*

*Sole tenía 9 barras para vender.  
Ha vendido 4.  
¿Cuántas barras le sobran?*

*Resultado*

**Matemáticas. 1º Primaria    Repaso Tercer Trimestre.****Nombre:** \_\_\_\_\_*Escoge los números correctos para completar las sumas***+****=****+****=**

$16+8=$

$19+4=$

$18+5=$

$12+28=$

$32+5=$

$4+16=$

## Matemáticas. 1º Primaria Repaso Tercer Trimestre.

Nombre: \_\_\_\_\_

Rodea en cada caso, el número mayor en rojo y el menor en verde

32 30 29 26 33

15 12 16 13 14

En mi clase hay 23 lápices verdes y 14 lápices rojos  
¿Cuántos lápices hay en total?

Lápices

Verdes

La Operación es

Rojos

Resultado

Ordena de menor a mayor

4 16 12 18 1 6 5 2 23 15 26



## Matemáticas. 1º Primaria Repaso Tercer Trimestre.

Nombre: \_\_\_\_\_

Lola pescó 6 peces.

Gema pescó 3 peces más que Lola.

¿Cuántos peces pescó Gema?

Resultado

Restas

36

- 27

53

- 25

38

- 29

62

- 39

$10 - 2 =$

$25 + 3 =$

## Matemáticas. 1º Primaria Repaso Tercer Trimestre.

Nombre: \_\_\_\_\_

Amelia tiene 43 cromos, Javi tiene 52 cromos y Nacho tiene 61 cromos

¿Cuántos cromos tienen entre los tres?

Cromos

Amelia

La Operación es

Javi

Nacho

Resultado

Completa como en el ejemplo

24

son

2

Decenas

y

4

Unidades

56

son

Decenas

y

Unidades

31

son

Decenas

y

Unidades

son

5

Decenas

y

6

Unidades

## Matemáticas. 1º Primaria Repaso Tercer Trimestre.

Nombre: \_\_\_\_\_

José plantó 17 plantas.

Rocio plantó 5 plantas más que José.

¿Cuántas plantas plantó Rocio?

Resultado

Completa como en el ejemplo

12	son	1	Decenas	y	2	Unidades
25	son		Decenas	y		Unidades
	son	4	Decenas	y	0	Unidades
	son	8	Decenas	y	2	Unidades

## Matemáticas. 1º Primaria Repaso Tercer Trimestre.

Nombre: \_\_\_\_\_

Javier tiene 38 libros.

Sara tiene 12 libros menos que Javier.

¿Cuántos libros tiene Sara?

Resultado

Colorea en rojo los números pares y en azul los impares

65	93	29	36
13	58	28	82
94	36	12	19
16	26	34	43
24	12	89	23